

DOEN!

KPJ Nederwetten

Wèttegij't?!

2022

JOKER

Team:

QUIZZBOEK

Het team

Het Team

Schrijf hieronder jullie originele en ludieke teamnaam op!

Mail een duidelijke teamfoto van minstens 1000kb voor 23.00 uur naar:
quiz@doennederwetten.nl

Plaats deze foto op de **facebookpagina en/of instagram van DOEN! Nederwetten.**

Mijn team bestaat uit _____ personen

Ons jongste teamlid is _____ jaar

Ons oudste teamlid is _____ jaar

- De vragen bestaan uit open vragen (soms aangevuld met sub-vragen), meerkeuzevragen of actievragen. Antwoorden op de vragen dienen ingevuld te worden in het quizboek en uitgevoerd te worden zoals aangegeven in de vraag. Aan niet- of slecht leesbare antwoorden worden geen punten toegekend. Bij meerkeuzevragen dient het juiste antwoord omcirkeld te worden.
- Voor elke categorie, behalve voor de geheime opdracht, mogen alle denkbare hulpmiddelen worden gebruikt om het juiste antwoord op de vraag te vinden. Denk hierbij aan internet, encyclopedie, telefoon, rekenmachine, burens en/of andere vraagbakens.
- Alleen teams die dit quizboek en toebehoren op tijd (tussen 23.00 en 23.15 uur, 1 april 2022), persoonlijk en op juiste wijze hebben ingeleverd bij de organisatie in de Koppelaar te Nederwetten, strijden mee om de hoofdprijs.
- Zorg er voor dat elke bladzijde van het quizboek voorzien is van je teamnummer en dat de bladzijden op de juiste volgorde weer ingeleverd worden. Stop het quizboek en alle toebehoren (waar mogelijk) terug in het DOEN!-tasje en lever dit gezamenlijk in.
- Ieder team mag een joker inzetten op één van de categorieën, behalve op categorieën 8 en 9. De punten van de categorie waarop de joker is ingezet, tellen dubbel! Geef op het titelblad van het quizboek aan op welke categorie jouw team de joker inzet.
- Naast het maken van het quizboek dient er ook een geheime opdracht uitgevoerd te worden. Kijk hiervoor in het quizboek.
- Elk team krijgt de laatste vragen / opdracht te horen op de feestavond, hier kunnen dus de laatste belangrijke punten worden verdiend.
- De uitslag en prijsuitreiking van de quiz vindt onder voorbehoud plaats op de Wèttegij't-DOEN! feestavond die start om 20.00 uur op zaterdag 9 april 2022 in de Koppelaar te Nederwetten.
- De uitslag is bindend en er kan niet over gediscussieerd worden. Bij twijfel, onduidelijkheid beslist de organisatie. Ingeleverde quizboeken blijven eigendom van DOEN!
- De juiste antwoorden op de Wèttegij't-quizvragen worden na de feestavond op de DOEN! website, bekend gemaakt.
- Deelname aan de Wèttegij't-quiz is geheel op eigen risico, zie ons reglement op de website van DOEN!

Onze sponsoren

Sinds 2012

GRILLBAR
SLINDERS

JE MAG
ALLES ETEN
maar niet alles weten

well done!

 **H. KUIJPERS BV**

- grondwerken
- sloopwerken
- infra
- (sier)bestratingen

www.hkuijpers.nl

tel. 0499 461195



Brasserie / Café
“De Kruik”



VAN KEULEN
elektrotechnisch buro



 **Soetbeeck**
schilderwerken

no1 rendershof 8
5674 MC nuenen
info@soetbeeck.nl

06 516 79 247



JUMBO
Ton Grimberg
Nuenen-Centrum

De categorieën

1. Netflix & Chill
2. Linksbuitenadem
3. Wat een boer niet kent...
4. Globetrotters
5. Mèrge wir zèn
6. Uit de oude doos
7. Rund um hause
8. Sponsorvragen
9. Geheime opdracht

Categorie 1: Netflix & Chill

1. Beantwoord de volgende vragen.

Welke muzikant behaalde in 1988 een wereldrecord door een groot liveconcert neer te zetten?

Tina Turner

Welk woord gebruiken we als we opeens begrijpen hoe iets zit?

Aha


Wat is de voornaam van degene die tante Dora Lefèrve speelde in de oorspronkelijke versie van 't Schaep met de vijf pooten?

Adèle

Welke band is opgericht in 1978 en treedt i.p.v. juni 2020, nu in juni 2022 op in Portugal?

Duran Duran

2. Aan jullie de opdracht om één van onderstaande foto's zo exact mogelijk na te maken met jullie groep. Per foto zijn 6 beoordelingspunten aangegeven. Mail de foto voor 23.00 uur door naar quiz@doennederwetten.nl o.v.v. Een wonderlijke wereld + teamnummer



De kleren van de keizer:
'Naakt' persoon - Lakeien -
Vlagdrager - Klein kind -
Afdakje voor de keizer -
'Opstelling'



Sneeuwitje:
Kleding sneeuwitje -
7 dwergen - Prins met mantel -
3 dwergen met instrumenten -
1 boze dwerg - 'Opstelling'



Wolf en de 7 geitjes:
Klok - 6 geitjes ganzenborden
- Wolf - Hobbelpaard -
Treintje - 'Opstelling'

3. Noem de juiste naam behorende bij onderstaande plaatjes. Geef tevens aan in welk spel deze voor het eerst te zien waren.



Entei – Pokémon
Gold en Silver



Zekrom – Pokémon
Black



Heatran – Pokémon
Diamond en Pearl



Yveltal – Pokémon Y

4. Onderstaande letters zijn allemaal afkomstig uit titels van series die op tv en/of streaming dienst te zien zijn/waren. Noteer per letter en leesteken van welke serie deze afkomstig is.



N = Band of Brothers	& = Bassie & Adriaan
E = The A Team	C = Blacklist
T = Stranger Things	H = Southpark
F = Friends	I = CSI
L = Lucifer	L = The L Word: Generation Q
I = Knightrider	L = Scandal
X = X Files	

5. Groepeer de onderstaande termen in 3 bij elkaar passende groepen en noem de overeenkomst van deze 3 groepen.

Zuid Afrika	Karel van de Graaf	10-3-2006
Paulien Cornelisse	Japan	1.673.000
13	€ 24.475	Sanne Vogel

1	Karel van de Graaf	10-3-2006	€ 24.475
2	Zuid Afrika	Paulien Cornelisse	13
3	1.673.000	Sanne Vogel	Japan

Overeenkomst: **Tv programma: Wie is de Mol?**

Wolter Kroes	2018	Humberto Tan
7 oktober	Hilversum	Bram Krikke
6 kilometer	Utrecht	2.2 miljoen

1	Humberto Tan	Utrecht	6 kilometer
2	Bram Krikke	Hilversum	2018
3	Wolter Kroes	7 oktober	2.2 miljoen






Overeenkomst: **Tv programma: Jachtseizoen**

6. Mooie snoetjes, maar welke tekenfilm-/cartoondieren zie je hier?



1 Robin Hood	5 The reluctant Dragon	9 Grizzly
2 Mr. Peabody	6 Kapitein Brom	10 Stimp J. Cat
3 Marty	7 Kaa	
4 Occy	8 Simba	

7. Welke films worden hieronder met emoji's uitgebeeld?

	<p>Groundhog day</p>
	<p>See no evil, hear no evil</p>
	<p>The hangover</p>
	<p>New kids turbo</p>
	<p>The Bridge on the River Kwai</p>

8. Maak van minstens één van je teamleden een bookface. Mail de foto voor 23.00 uur door naar quiz@doennederwetten.nl o.v.v. bookface + teamnummer.

9. Geef de voor-en achternaam van onderstaande sterren zoals deze in het dagelijks leven heten. Noem tevens hun artiestennaam.

				
<p>Jaap Siewertsz van Reesema - Jake Reese</p>	<p>Robbert van de Corput - DJ Hardwell</p>	<p>Caroline van der Leeuw - Caro Emerald</p>	<p>Johannes Bouwens - George Baker</p>	<p>Tinus Kattenberg - Tino Martin</p>

10. Welke apps zie je in onderstaande afbeeldingen? Schrijf de volledige namen op.



1. Thuisbezorgd.nl – NordVPN
2. Todoist – TikTok
3. Livescore – Trello
4. AirBNB – Shazam
5. FlowFree – PinOut
6. Happn – Honeywell Home

Categorie 2: Linksbuitenadem

1. Beantwoord de volgende vragen:

Welke sport heeft het hoogste aantal deelnemers per m2 speelveld?

Volleybal

Bij welke sport heten de binnenste en buitenste zijlijnen van het speelveld tramrails?

Tennis

Noem de naam van de sport die naar alle waarschijnlijkheid in India is ontstaan en door Engelse officieren rond 1873 in Engeland veelvuldig werd gespeeld.

Badminton

Van welke sport werd 100 jaar geleden de internationale federatie opgericht en is sinds 1988 een olympische sport?

Tafeltennis

2. Hieronder staan een aantal handschoenen. Noem de naam van de best bijpassende sport.



1. **Handboogschieten**

4. **Biljarten**

2. **Bowlen**

5. **Gewichtheffen**

3. **Kogelslingeren**

3. Regelmatig zijn er sportwedstrijden waarvan de opbrengst naar een goed doel gaat.

Hieronder staan delen van afbeeldingen van zulke sportwedstrijden. Noem de naam van de sportwedstrijd en geef aan welk goede doel hiermee samenhangt. Zet deze in volgorde van opbrengst in 2016 (begin met de laagste opbrengst).



1. **Duchenne Heroes – Duchenne Spierdystrofie**

2. **Arena Moves – MS**

3. **Run for Kika – Stichting Kinderen Kankervrij**

4. **Alpe d'HuZes - KWF**

Volgorde: **2 – 3 – 1 – 4**

4. Noem de voor-en achternaam van de coach/trainer die het beste bij onderstaande beschrijvingen past. Benoem tevens de bijbehorende sport.

Persoon 1

Geboren in Italië, carrière begonnen in zijn thuis-plaats, deed mee met het wereldkampioenschap in Japan en Olympische Spelen in Sydney, was twee jaar werkzaam in Nederland.

Giovanni Guidetti – volleybal

Persoon 2

Carrière begonnen in 2003 in Drenthe. Vanaf 2012 bondscoach van de unie. Benoemd tot coach van het jaar. Door het coachen mee gedaan met wereldkampioenschappen en Europese kampioenschappen. Meer dan negen jaar coach van een meervoudig wereldkampioene.

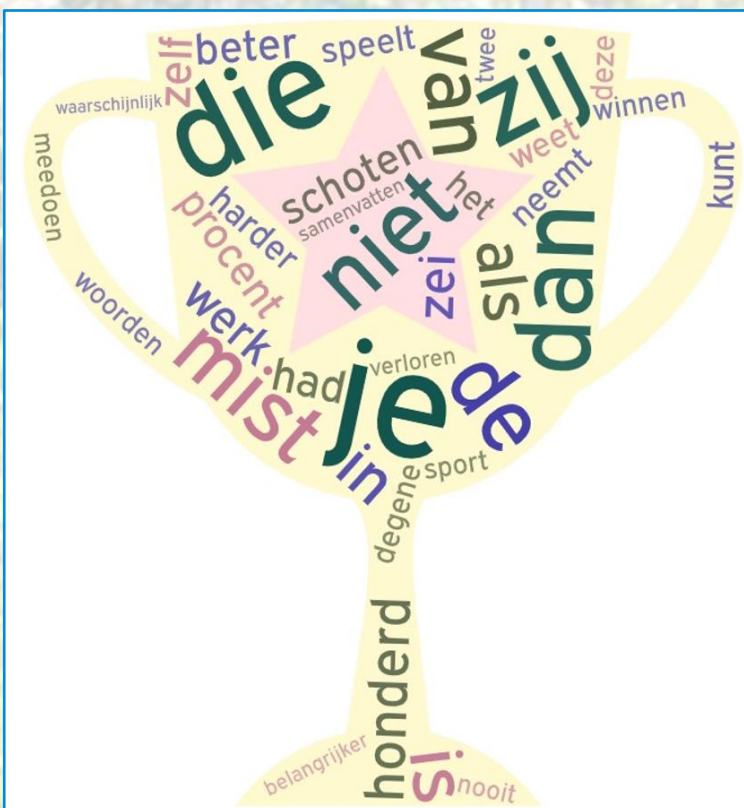
Bart Bennema – atletiek

Persoon 3

Geboren in Amsterdam. Als coach werd hij 14 keer landskampioen en is hij een aantal keren benoemd tot coach van het jaar. Hij was bij 10 wedstrijden bondscoach en werd Ridder in de Orde van Oranje-Nassau.

Ton Boot – basketbal

5. Sporters weten vaak bijzondere zinnen uit te brengen. In onderstaand plaatje staan 4 beroemde zinnen. Benoem de zinnen en geef de voor- en achternaam van de persoon bij wie deze zin het beste past. De woorden: je, dan, die, niet, zij mogen vaker gebruikt worden.



Je mist honderd procent van de schoten die je niet neemt - Wayne Gretzky

Als je niet beter speelt dan zij, werk dan harder dan zij - Ben Hogan

Degene die zei meedoen is belangrijker dan winnen, had zelf waarschijnlijk verloren - Martina Navratilova

Je kunt deze sport in twee woorden samenvatten: je weet het nooit – Lou Diva

6. Soms gaat het in de sport niet helemaal zoals het hoort. Hieronder staan een aantal van zulke fragmenten. Noem de voor- en achternaam van de slachtoffers. (Het gaat om gebeurtenissen uit 2016 en 2017.)



Mohammed Anis

**Natasha Hunt (li)
Jade Le Pesq (re)**

Danilo Luiz da Silva

Adam Hughes

Broderick Thompson

7. Logisch nadenken. Vul de onderstaande tabel in met behulp van de gegeven informatie.

Vier jongens oefenen om de bal in het doel te schieten. Iedere jongen draagt een andere kleur shirt en ook het rugnummer is bij iedere jongen anders.

- Het shirt van de doelman op plaats 3 is rood.
- Mark, die een shirt draagt met rugnummer 4 staat meer naar links dan zijn vriend in het groene shirt.
- Het rugnummer van de jongen in het gele shirt is net iets hoger dan dat van Tim.
- Speler 1 heeft een 10 op zijn shirt dat niet blauw is.
- De jongen die het shirt met nummer 2 draagt ziet u meteen rechts van de jongen met rugnummer 8.
- Dirk staat meer naar links dan Kees.




Speler	1	2	3	4
Naam	Dirk	Mark	Tim	Kees
Kleur	Geel	Blauw	Rood	Groen
Rugnummer	10	4	8	2

8. Hieronder staan een aantal afbeeldingen van beroemde sportvelden. Noem de naam van het veld en in welk land het ligt.



1. **Pebble Beach Golf - USA**
2. **Kingsbarns Golf - Schotland**
3. **Old Head Golf - Ireland**
4. **The Duke - Nederland**

9. Wat is de best passende gemene deler van de sporters in dezelfde rij?



Deze drie sporters wonnen op maximaal een honderste na net géén goud op de Olympische spelen.



Deze drie sporters zijn allen overleden tijdens de beoefening van hun sport.



Deze drie sporters hebben allemaal een relatie (gehad) met een sporter die dezelfde tak van sport beoefent/beoefende.

10. Tijd voor voetbal. Omcirkel drie jaartallen die niet in dit rijtje thuishoren en geef aan waarom niet.

2004	1969	1966	1971
1996	1970	1972	1984
1973	2017	1988	

In die jaren speelde er GEEN Nederlandse club in de finale van de Europacup 1 of de Champions League. In de andere jaren wel, zij het dat Ajax in 1969 en 1996 de finale verloor.

Categorie 3: Wat een boer niet kent...

1. Beantwoord de volgende vragen.

Wat is de achternaam van de circusdirecteur die in 1887 een eigen theater opende?

Carré

Met welk lied scoorde Berdien Stenberg ooit een nummer 1 hit? Noteer het eerste woord.

Rondo

Welke rappende muziekproducent helpt Ali B in zijn programma's en presenteerde De Invasie?

Brownie (Dutch)

Wat voor hoofddeksel dragen nomaden en sikhs vaak?

Tulband

2. Je ziet een deel van vijf kookboeken. Zet de boeken op volgorde van voornaam van de (eerste) auteur. Noem tevens de titel van het boek.



David Frenkiel – The Green Kitchen

Fajah Lourens – Killerbody 2

Jamie Oliver – 5 ingrediënten

Jennifer ter Heide – Voedzaam & snel

Sonja Bakker – Bereik je ideale gewicht

3. Ga op zoek naar etenswaar met een houdbaarheidsdatum zo ver mogelijk in de toekomst. Hoe verder de datum in de toekomst ligt, des te meer punten er te verdienen zijn. Zorg er wel voor dat het product nog in de juiste originele verpakking zit, de houdbaarheidsdatum duidelijk leesbaar is en voorzie het van je teamnummer. Lever dit product samen met het quizboek in.

4. Hieronder staan woorden van 6 spreken die je op Pickwick theezakjes kunt vinden. Zet de juiste woorden bij elkaar, zodat de originele Pickwick spreuk te lezen is. Voor het inleveren van een origineel labeltje met de genoemde spreuk erop, zijn extra punten te verdienen. Vergeet niet om het teamnummer op het labeltje te noteren.

met	is	kortgeleden	jij	wie
bel	op	dacht	welk	jouw
hoeveel	familie	jij	wie	ben
door	wie	avond	de	tijd
thee	is	wie	verrast	bijgepraat
een	door	je	onmisbaar	meer
voor	waar	jou	gezellige	je
uit	jij	persoon	moment	aan
breng	niet	laatste	voor	heb
met	gisteren	al	lang	

Met wie heb je al lang niet meer bijgepraat?

Wie bel jij voor een gezellige avond uit?

Hoeveel tijd breng jij door met jouw familie?

Op welk moment is thee voor jou onmisbaar?

Door wie ben jij kortgeleden verrast?

Wie is de laatste persoon waar je gisteren aan dacht?

5. Coffee. What else? Noem de naam van de cups zoals deze op onderstaande afbeelding staan. Zet deze op volgorde van intensiteit (van laag naar hoog).



Vivalto Lungo (intensiteit 4)

Capriccio (intensiteit 5)

Rosabaya de Colombia (intensiteit 6)

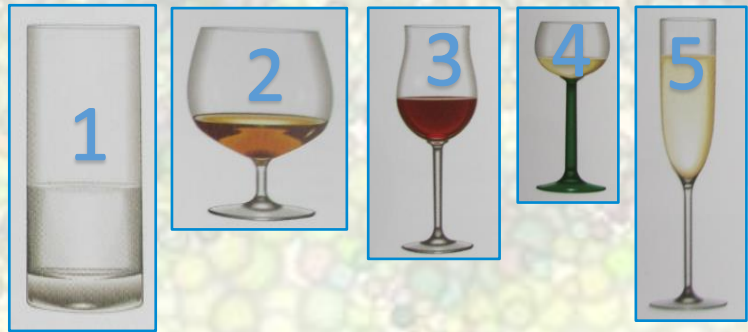
Decaffeinato Intenso (intensiteit 7)

Dharkan (intensiteit 11)

6. Op een willekeurig moment op deze avond ontvangt jullie teamcaptain een bericht. In dit bericht worden een aantal etenswaren genoemd die jullie zo snel mogelijk moeten verzamelen. Maak een foto met daarop alle etenswaren (in originele verpakking) duidelijk zichtbaar en minstens 2 van jullie teamleden, inclusief jullie teamcaptain. Stuur deze foto binnen 30 minuten na ontvangst naar quiz@doennederwetten.nl o.v.v. etenswaren + teamnummer.

7. Hieronder staan een aantal drinkglazen afgebeeld. Noem de juiste Franse benaming van deze glazen.

1. Verre à gin – Verre long drink
2. Verre à cognac
3. Verre à bordeaux
4. Verre à de vin d'Alsace
5. Flûte de champagne



8. André van Duin was eens verkleed als banaan. Zoek het juiste filmpje op en beantwoord de volgende vragen. Wat zou de agent met de papieren kunnen gaan doen?

Een mutsie vouwen

Wat is het antwoord van de mop die André vertelt?

Schiet u nou op?

Wat is de uitvinding van de broer van André?

Hij maakt schoenen, slippers van bananenschillen.

Wat is de naam van André?

Pi Sang

Ook heeft André van Duin pizza's bezorgd. Zoek het juiste filmpje op en beantwoord de volgende vragen. Wat was de naam van de sticker op zijn brommer?

Pizza bezorgers doen het op bestelling.

Hoe vaak komt het woord pizza of pizza's voor in de originele versie van het pizzalied?

34

9. Beeld met je team onderstaande spreekwoorden uit. Voor elk spreekwoord, mag je maar 1 foto doormailen. Verder moeten er minstens 2 teamleden op elke foto staan. Natuurlijk wordt creativiteit extra beloond. Stuur de foto's voor 23.00 uur naar quiz@doennederwetten.nl o.v.v. spreekwoorden + teamnummer.

- Hij laat zich het kaas niet van het brood eten.
- Wat de boer niet kent, eet hij niet.
- Als katten muizen, mauwen ze niet.
- Liefde van de man gaat door de maag.
- Wat goed eet, schijjt goed.

Categorie 4: Globetrotters

1. Beantwoord de volgende vragen.

Welke Nederlandse stad kreeg rond 1300 stadsrechten en werd in de Gouden Eeuw een van de belangrijkste steden ter wereld?

Amsterdam

In welke plaats kun je t/m december 2022 alle Harry Potter boeken in 1 uur en 10 min. zien?

Las Vegas


Welke kroonkolonie werd op 1 juli 1997 door het Verenigd Koninkrijk overgedragen aan China?

Hong Kong

Voor welke stad was 9 november 1989 een belangrijke datum?

Berlijn

2. Onderstaande afbeeldingen vormen samen 10 hoofdsteden. Schrijf ze in alfabetische volgorde op.



1. Bangkok

4. Koeweit

7. Moskou

10. Windhoek

2. Belfast

5. Kopenhagen

8. Tripoli

3. Boekarest

6. Lelystad

9. Wenen

3. Hieronder staan afbeeldingen van een Islamitische jongen voordat hij gaat bidden. Zet de afbeeldingen in de juiste volgorde.



4-8-6-2-5-3-7-1

4. In onderstaande vlag zijn vlaggen uit allerlei landen gebruikt. De vlaggen zijn van links naar rechts naast elkaar afgebeeld. Noem de namen van de landen behorende bij deze vlaggen in de juiste volgorde.




- Ierland
- Verenigd Koninkrijk
- Portugal
- Spanje
- Frankrijk
- België
- Luxemburg
- Nederland
- Duitsland
- Italië
- Oostenrijk
- Denemarken
- Zweden
- Finland
- Griekenland

5. Hieronder staan een aantal woorden, door Google translate vertaald naar een andere taal. Geef de juiste betekenis van het woord.

1 эндүүрэл ном	2 عطلة المدرسة	3 パーティーの夜						
4 άνοιξη	<table style="width: 100%; border: none;"> <tr> <td style="width: 50%; padding: 5px;">1. Puzzelboek</td> <td style="width: 50%; padding: 5px;">4. Voorjaar</td> </tr> <tr> <td style="padding: 5px;">2. Schoolvakantie</td> <td style="padding: 5px;">5. Paasweekend</td> </tr> <tr> <td style="padding: 5px;">3. Feestavond</td> <td></td> </tr> </table>		1. Puzzelboek	4. Voorjaar	2. Schoolvakantie	5. Paasweekend	3. Feestavond	
1. Puzzelboek			4. Voorjaar					
2. Schoolvakantie	5. Paasweekend							
3. Feestavond								
5 Pääsiäisen viikonloppuna								

6. Hieronder zie je een collectie van heel uiteenlopende afbeeldingen. Ze hebben allemaal iets met elkaar gemeen. Maar één 'buitenbeentje' heeft die gemeenschappelijke factor niet en hoort er dus eigenlijk niet bij. Welke afbeelding is dat en waarom?



Alle voorwerpen hebben in het Nederlands een Franse naam, behalve de wieg.


7. Hieronder staan landen afgebeeld. Noem de juiste namen.

				
Nicaragua	Tanzania	Marokko	Madagaskar	Puerto Rico

8. Er bestaan wereldwijd diverse cijfersystemen, waarvan er hieronder een aantal zijn afgebeeld. Geef de uitkomst van de som in ons cijfersysteem en geef aan om welk cijfersysteem het gaat.

getal	getal	getal	uitkomst	systeem
XXV	X	XIII	325	Romeins
𑂔	-	𑂛	30	Brahmi
∧	+	ε	12	Arabisch
●●●● ————	X	⦶	0	Maya
∧	:	↯	10	Egyptisch

9. Noem de naam van de steden waar onderstaande foto's gemaakt zijn.



Rome

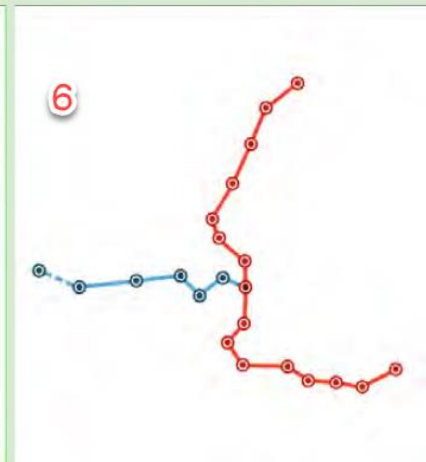
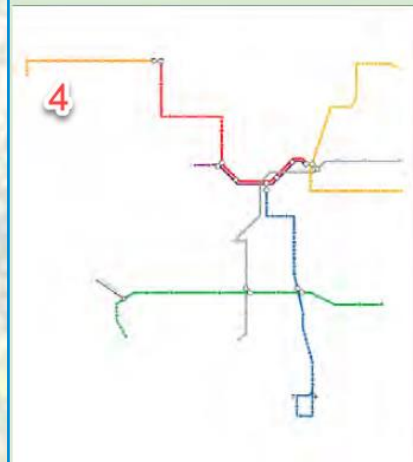
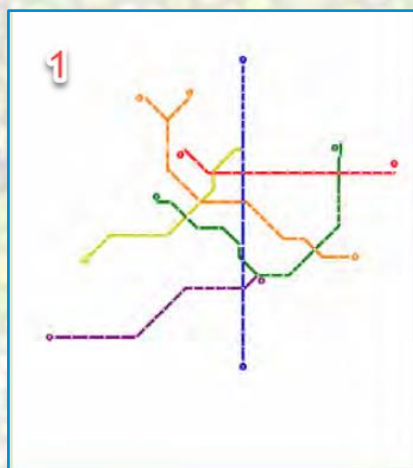
Valencia

Lissabon

Doha

Riga

10. Overal ter wereld kun je met de metro. Van welke steden zijn hieronder de metrolijnen weergegeven?



1. Sao Paulo

4. Los Angeles

2. Ningbo

5. Toulouse

3. Sevilla

6. Tblisi

Categorie 5: Mèrge wir zèn

1. De antwoorden van vraag 1 uit de categorieën 1, 2, 3 en 4 hebben per categorie een onderlinge link met elkaar. Bekijk de antwoorden a, b, c en d van vraag 1 uit de betreffende categorie en noteer zo exact mogelijk de link tussen deze vier antwoorden. Let op: Het gaat nu niet meer om de vraag die er aan vooraf ging, maar alleen om de vier antwoorden.

Netflix & Chill: **Deze artiesten zongen de titelsong van een Bondfilm**

Linksbuitenadem: **Sporten met een net**

Wat een boer niet kent...: **Gebak / Zoete lekkernijen**

Globetrotters: **Steden met Madame Tussauds**



2. Maak een vrachtauto van Kapla, op dezelfde manier als op de foto is afgebeeld. Maak totaal 3 foto's, waarvan 2 foto's van het bouwproces en 1 foto met de vrachtauto die klaar is. Zorg dat er op iedere foto minstens 2 teamleden te zien zijn. Mail de foto's voor 23.00 uur naar: quiz@doennederwetten.nl o.v.v. Kapla + teamnummer.



3. Hieronder staan een aantal yoga houdingen met daarnaast de verlichtingen die bereikt worden. Zet de juiste houdingen bij de best passende verlichtingen.

Pincha Mayurasana	<input type="radio"/>	<input type="radio"/>	stress, afvallen
Salabhasana	<input type="radio"/>	<input type="radio"/>	rugklachten, spijsvertering
Janu Sirsasana	<input type="radio"/>	<input type="radio"/>	stress, hoofdpijn, slapeloosheid
Apanasana	<input type="radio"/>	<input type="radio"/>	spijsvertering, stress, menstratieklachten
Garudasana	<input type="radio"/>	<input type="radio"/>	nek en schouders, (lage) rugklachten

4. Wie kent ze niet? Suske & Wiske. Welke avonturen zijn dit? Schrijf de titel behorende bij de afbeeldingen hieronder op, in volgorde van boeknummer.




- De circusbaron (nr. 81)
- De zingende zwammen (nr. 110)
- De gekke gokker (nr. 135)
- De mollige meivis (nr. 157)
- De ruige regen (nr. 203)

5. Met welk lettertype uit Word wordt Wèttegij't?! geschreven?


- 1. Wèttegij't?!
- 2. Wèttegij't?!
- 3. **Wèttegij't?!**
- 4. Wèttegij' t?!
- 5. Wèttegij't?!

- 1. Yu Gothic medium
- 2. Myanmar Text
- 3. Magneto
- 4. NsimSun
- 5. Nightclub BTN

6. Op onderstaande afbeeldingen zie je verpakkingen van webwinkels. Schrijf op van welke webwinkel deze verpakking komt. Extra punten zijn te verdienen door met 2 teamleden en een of meerdere van onderstaande verpakkingen op de foto te gaan. Mail de foto naar: quiz@doennederwetten.nl o.v.v. webwinkel + teamnummer.



Bol.com



999games



Zalando



FonQ

7. Bij het zien van onderstaande cijfers zou er een lampje moeten gaan branden. Waar zijn deze cijfers van?



92 – Olympische spelen Barcelona 1992

31 – Google agenda app

53 – Herbie

4 – American Pie 4

21 – 21 Jumpstreet

14 – Rugnummer Johan Crujff

95 – Cars

40 – Nederlandse top 40

01 – Dukes of Hazard

33 1/3 – Naked Gun 33 1/3

8. Maak onderstaande lamp zo precies mogelijk na. Een werkende lamp levert extra punten op. Ook creativiteit wordt extra beloond. Maak tijdens het proces een foto waarop minstens één teamlid te zien is. Stuur de foto voor 23.00 uur naar: quiz@doennederwetten.nl o.v.v. lamp + teamnummer. Lever de lamp, duidelijk voorzien van teamnummer, tegelijk met het quizboek in.



9. Onderstaande voorwerpen werden door de jaren heen gebruikt. Noem de naam en functie van het voorwerp.



1. Mal om Droste chocolaatjes mee te maken
2. Broekpers om de vouwen in een broek te maken
3. Testbeeld generator, om tv's te testen
4. Graveernaalden die gebruikt werden voor het maken van een topografische kaart.
5. Aardappelraper

10. Maak deze Suguru af.

3	1	5	1	3	1	2
2	4	2	4	2	4	3
5	3	1	3	1	5	1
1	2	4	2	4	2	4
3	5	3	1	5	1	3
4	2	4	2	3	2	5
3	1	3	5	1	4	1
2	4	2	4	2	5	2
1	3	1	3	1	3	1

Categorie 6: Uit de oude doos

1. Herken jij ze? Schrijf bij de foto, in volgorde, de voor- en achternaam van de 3 Nederwettenaren op.



Marscha Bocken

Maria van de Biggelaar

Lenny Kuhr

Wouter Bunthof

Piet Grauls

Dennis Lassouw

Chris van de Biggelaar

Han Huijbers

Marijke Jansen

2. Welke liedjes zoeken we? Noem de titel en de naam van de (uitvoerende) artiest.



Weekend – Earth and Fire



George Baker – Little green bag



Salt 'n Peppa – Let's talk about sex

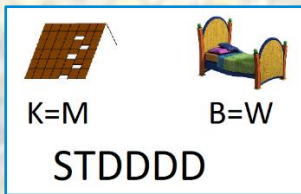


Trijntje Oosterhuis – De zee




Coldplay – Yellow

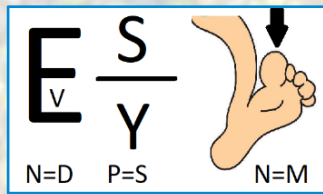
3. Welke woorden staan hier afgebeeld? Los de letterrebus op.



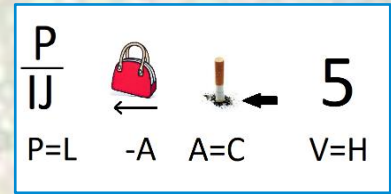
Damwedstrijd



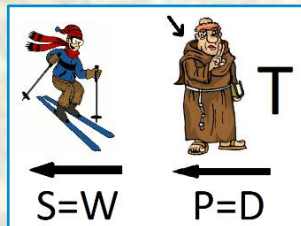
Opstappen



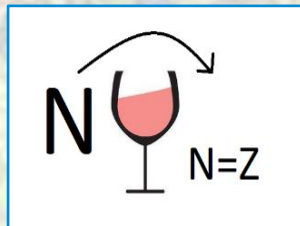
Videosysteem



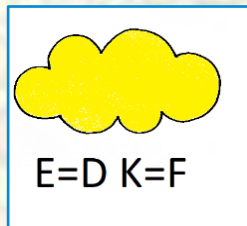
Polijschijf



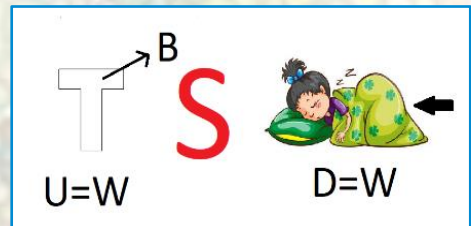
Reikwijdte



Nawijzen



Geldwolf



Wittebroodsweken

4. Beantwoord de volgende vragen. Het antwoord is te vinden in de laatste editie van de telefoongids & gouden gids. Schrijf deze uitkomsten op en beantwoord vervolgens de vraag.

1. Ga naar blz. 46. Er staan 2 grote advertenties van hetzelfde bedrijf op deze pagina. Neem de eerste 3 letters van de naam van dit bedrijf.
2. Ga naar blz. 276. Neem van de achternaam, behorende bij het 1ste telefoonnummer, de eerste 4 letters.
3. Ga naar CD'S en DVD'S. Neem van de plaatsnaam behorende bij het 1ste telefoonnummer, de eerste 4 letters.
4. Ga naar Eersel. Neem van de straatnaam behorende bij het 2de telefoonnummer, de laatste 3 letters.
5. Ga naar blz. 200. Neem de eerste 2 letters van de plaatsnaam behorende bij deze pagina.
6. Ga naar Sterksel. Zoek de achternaam behorende bij het adres: Vlaamseweg 4. Neem de 1ste letter van de achternaam.
7. Ga naar blz. 383. Neem van de 3de kolom, het letters van de postcode behorende bij het op 5 na laatste telefoonnummer.

Vraag: **Hoe lang bestaat de KPJ?**

Antwoord: **93 jaar**

5. Het is weer tijd voor onze crea Bea's. Maak een vlaggenslinger van stof. Zorg ervoor dat de vlaggetjes een formaat hebben van 20 cm breedte en een schuine kant van 30 cm. Aan de slinger moeten tenminste 12 vlaggetjes komen te hangen. Het te gebruiken kleurenpatroon is blauw en wit. Creativiteit wordt beloond. Lever de vlaggenslinger tegelijk met het quizboek in. Zorg er voor dat slinger duidelijk voorzien is van het teamnummer.

6. Hieronder staan afbeeldingen van Nederwettense voordeuren. Noem de straatnaam en het juiste huisnummer.




Hoekstraat 45



Eeuwsestraat 12



Kerkhoef 15








Willem van de Laarhof 7



Bloemhoefstraat 17

7. Van welke gezelschapsspelletjes komen deze afbeeldingen?




- | | |
|------------------------|-------------------------------------|
| 1. Knister | 6. Qwinto |
| 2. Twenty One | 7. Keer op Keer |
| 3. Genius Dobbelspel | 8. Traxx |
| 4. Phase 10 Dobbelspel | 9. Dobbelland |
| 5. Clever | 10. Kolonisten van Catan Dobbelspel |

8. Heb jij goed opgelet in Nederwetten? Bij welke adressen horen onderstaande nummerborden? Schrijf de straatnaam en het huisnummer op.

- | | |
|----------|--------------------|
| 42-TX-SR | Hoekstraat 8 |
| 80-BJ-KV | Hoekstraat 30 |
| 86-LVJ-5 | Thijs Slootshof 5 |
| SJ-JH-76 | Bloemhoefstraat 27 |
| 10-XPV-1 | Zandstraat 7 |

9. Trek een lijn tussen de afbeeldingen die bij elkaar horen.



10. Tijdens ons rondje door Nederwetten wilden wij foto's maken van verschillende huizen. Alleen in plaats van een gewone foto te maken, maakten we per ongeluk een selfie. Van welk adres hadden wij eigenlijk een foto willen maken? Noem de straatnaam en het huisnummer.



Esrand 10



Kerkhoef 12 a



Soeterbeekseweg 22



Euwelsestraat 8



Hoekstraat 1



Koutergat 1



Nieuw Ervenestraat 28



Kersenbogerd 6

Categorie 7: Rund um hause

1. Onderstaande borden waren in Nederwetten te zien. Welke baby's zijn hier geboren? En wat was het bijbehorende adres?



Iris

Adres: Soeterbeekseweg 3b



Milou en Rens

Adres: Ten Hout 14



Fedde

Adres: Kerkhoef 11

2. Uit welk boek komen (delen van) onderstaande fragmenten? Noem de titel van het boek.

Als je nu door Nederwetten loopt en je kijkt eens rond, dan zie je nog wel wat aan bedrijvigheid.

Nederwetten, uitgebreid besproken.

De jaarlijkse huisslachting. Het varken hangt op de leer en is gereed om uitgebeend te worden.

Van Hooionk tot Soeterbeek, Nederwetten in woord en beeld in de 20^{ste} eeuw.


Nederwetten in maart: de Hoekstraat en de Eikelkampen komen samen.

Nuenen van boven.

In de nabijheid ligt het Sneppegat, een naam uit de volksmond. <...> "Gat" in de betekenis van "laagte". "Sneppe" verwijst mogelijk naar de vogel van die naam, voorkomend in vochtig gebied, hetgeen aansluit bij de situatie ter plaatse.

De straatnamen van Nuenen, Gerwen en Nederwetten.

3. In welk jaar zijn deze afbeeldingen gemaakt?



1. 1970

4. 1910

2. 1973

5. 1996

3. 1965

4. Hieronder staan afbeeldingen van (delen van) zonnepanelen. De foto's zijn gemaakt in Nederwetten en directe omgeving. Noteer de bijbehorende straat en huisnummer.



Nieuw Ervenestraat 14

Willem Sengershof 14

Bloemhoeve 18

Hoidonk 2



Hoekstraat 56

Kerkhoef 2

Soeterbeekseweg 3a

Zandstraat 31

5. Zoek het originele paaltje en tel alle cijfers die op deze paaltjes bedrukt zijn op. Schrijf per paal het antwoord op.

1. 39

2. 30

3. 35

1



2



3



6. Sinds het voorjaar van 2019 is Nederwetten in het licht komen te staan. Beantwoord de volgende vragen.

Hoeveel nieuwe lantaarnpalen zijn er toen geplaatst?

19

Hoeveel armaturen zijn er vervangen?

93

Hoeveel lantaarnpalen staan er momenteel binnen de bebouwde kom van Nederwetten?

186

Op een normale winterdag wijzigt de lichtsterkte van de lantaarnpalen gedurende de nacht. Noem de tijden waarop de lichtsterkte wijzigt en geef aan hoeveel procent de lichtsterkte dan is. De tijden wanneer ze aan en uit gaan, tellen niet mee.

22.00 uur (60%), 00.00 uur (20%), 06.00 uur (60%) en 07.00 uur (80%)

7. DOEN! KPJ Nederwetten vierde feest in 2019. Zet onderstaande foto's in juiste volgorde.



3-2-5-1-6-7-8-4

8. In oorlogstijd is in Nederwetten een geschutskoepel van een bommenwerper met twee bemanningsleden gevonden.

Noem de voor- en achternaam van deze bemanningsleden.

Sgt. Reginald Percy Naylor en Sgt. Arthur Forster Marshall



Noem de datum waarop ze zijn overleden.

21 juli 1944

Noem zo exact mogelijk de locatie waar de geschutskoepel werd gevonden.

350 m ten zuiden van de Soeterbeekseweg ter hoogte van nummer 42.

9. Noem de voor- en achternaam van onderstaande Nederwettenaren.



1. Neel den Ouden

2. Johannes de Vries

3. Nol van Moorsel

4. Catharina Janssen-Jaspers

5. Harrie Janssen

6. Pero Verstappen

7. Harrie Renders

8. Karel de Brouwer

10. Noem de naam van de personen op onderstaande afbeeldingen en zet de beelden in de juiste volgorde. Ga hiervoor met je rug naar het glas in loodraam van H. Joris staan en kijk dan vanaf je linkerhand met de klok mee.



1. H. Petrus

2. Heilig Hartbeeld –
Christusfiguur

3. H. Cecilia

4. H. Franciscus

5. H. Antonius

Volgorde: 1 – 2 – 3 – 4 – 5

Categorie 8: Sponsorvragen



1. H. Kuijpers BV

H. Kuijpers BV is een bedrijf wat zich gespecialiseerd heeft in het uitvoeren van grondwerken, sloopwerken, het aanleggen van (sier)bestratingen en de aanleg en onderhoud van infrastructuur. Met vakkundig personeel en een modern machinepark staan wij garant voor een juiste uitvoering van de werkzaamheden. Onze klanten bestaan uit zowel particulieren, bedrijven als de overheid. Naar wens van de klant nemen wij werken aan of werken wij op regie (uur) basis.

H. Kuijpers B.V. heeft het Nuenense bedrijf Beerens Grondverzet overgenomen. Wanneer vond deze overname plaats (maand/jaar)?

April 2019

H. Kuijpers B.V. beschikt over diverse materieel om grote en kleine projecten uit te voeren. Voor de kleinere projecten wordt vaak een miniloader ingezet. Over hoeveel van deze machines beschikt H. Kuijpers B.V.?

3 stuks

Waar heeft H. Kuijpers B.V. een rolstoelpad aangelegd?

Bosgebied West Son / Sonse Bossen.



2. Kinderopvang Anne

Bij Kinderopvang Anne voelen kinderen zich veilig, hebben plezier en kunnen zich ontwikkelen met voldoende persoonlijke aandacht. Ieder kind is uniek en heeft zijn of haar eigen ontwikkel tempo. Om zich te kunnen ontwikkelen heeft een kind verzorging, geborgenheid en uitdaging nodig. Op Kinderdagverblijf Kinderopvang Anne worden er activiteiten ondernomen die aansluiten bij de leeftijd van de kinderen zoals: liedjes zingen, spelletjes spelen en knutselen om de kinderen een leuke en leerzame dag te bezorgen.

Hoeveel Cars auto's staan er op vrijdagavond in de file bij Kinderopvang Anne?

9



3. ETB van Keulen

ETB Van Keulen weet elektrotechniek te vertalen in slimme oplossingen die het verschil maken in uw omgeving. Technisch inzicht en een sterk gevoel voor de behoeften van mensen vormen de ingrediënten voor onze vernieuwende concepten. Uw wensen vormen het uitgangspunt.

Welke generatie staat op dit moment aan het roer bij ETB van Keulen?

4^{de} generatie

Wat is zijn/haar naam?

Remko van Keulen



4. Soetbeek Schilderwerken

Soetbeek schilderwerken staat voor kwaliteit, persoonlijke benadering en betrouwbaarheid. Wout Harmeling is het gezicht van Soetbeek en werkt met veel plezier aan zeer diverse projecten. Soetbeek is een allround schildersonderneming uit Nederwetten, met een focus op de particuliere sector. Naast binnen- en buitenschilderwerk biedt Wout ook aanvullende diensten, zoals glaszetten, behangen, gevel- en wandafwerking en houtreparatiewerk. Wout staat graag voor u klaar en levert naast goede service een duurzaam en strak resultaat.

Hieronder staan 3 foto's waar Soetbeek schilderwerken het hout weer van een mooie laag verf heeft voorzien. Maar welke kleuren zijn hier eigenlijk gebruikt?



1. RAL 7021 zwartgrijs
2. Grachtengroen/standgroen 4005
3. Okergeel E8.50.50



5. De Eindhovenenaar

Wat is fijner dan je eigen huis midden in de stad. Waan je even Eindhovenenaar, stap binnen bij Frits, Theo of Coen en geniet van je eigen Eindhovense stek. Een persoonlijk smaakvol ingericht brand new appartement van alle gemakken voorzien.

Hoeveel personen (excl. baby's) kunnen er in het totaal overnachten in De Eindhovenenaar?

17

Welk nummer van 'Snow Patrol' vind je op de website?

Shut your eyes

Welk appartement of appartementen hebben geen terras?

Rob

Welke gast vond in 2018 het appartement super gezellig ingericht maar wilde meer dan 1 toilet?

Britt



6. Grillbar Slinders

Grillbar Slinders opende haar deuren in 2012 om tradities te openbaren aan de vleesliefhebbers van vandaag de dag. Neem het hen echter niet kwalijk dat er enkele geheimen zijn die niet geopenbaard kunnen worden. Jullie mogen alles eten, maar niet alles weten. Wisten jullie wel dat je bij Grillbar Slinders ook vleespakketten kunt bestellen?

Welke stukken vlees/vis zitten er in pakket 1 'Grillmaster'?

Ossenhaasspies
Ribeye
Varkenshaas

Halve sparerib
3 Knoflookgamba's

Naast het standaard pakket, kun je het pakket personaliseren en tal van mogelijkheden aan je pakket toevoegen. Hoeveel extra opties heb je?

14



7. Brasserie-café De Kruik

In het hart van Nederwetten, in de schaduw van de St. Lambertuskerk vindt u Brasserie/Café "De Kruik". Het sfeervol terras nodigt u bij mooie dagen uit voor een lekker glaasje of een overheerlijke lunch of tussendoortje. In de brasserie bieden "De Kruik" u onder andere een uitgebreide à la carte kaart en een 3-gangen verrassingsmenu.

Hoeveel stoelen staan er vanavond in het restaurantgedeelte?

Hoeveel kaarsjes staan er op tafel?



8. Jumbo Ton Grimberg

Het doel van Jumbo Ton Grimberg? Boodschappen doen voor u plezierig maken met een groot assortiment, lage prijzen, volop gratis parkeergelegenheid en een enthousiast team. En: 365 dagen per jaar open, van 7.00 - 22.00 uur.

Wat is het goedkoopste product in onze winkel en welke streepjescode (alleen de cijfers) staat hier op? Let op! Wij bedoelen een volwaardig product uit de winkel, dus geen service- of tabaksproduct en geen onderdeel van een multipack zoals losse flesjes water!

Bruggeman bakkersgist (€0,19) / EAN 54061002

Geheime opdracht

Over deze categorie vertellen we jullie niets. Dit is namelijk de geheime opdracht.

Hieronder staan de regels en tips voor deze opdracht:

- We verwachten maximaal 2 teamleden.
- We verwachten je/jullie om uur. Als je te laat bent kan je helaas niet deelnemen aan deze opdracht en krijgt je team geen punten.
- Neem dit blad mee naar de geheime opdracht.
- De opdracht zal circa 15 minuten duren.
- Neem je teamnummer mee.



- 1.
- 2.
- 3.
- 4.
- 5.
- 6.
- 7.
- 8.
- 9.
- 10.

Bedankt

**Wij willen alle deelnemers en
sponsors van de Wèttegij't?!
Quiz 2022 hartelijk danken!**

We zien jullie graag terug tijdens de prijsuitreiking op
9 april 2022 aanvang 20.00 uur.

Op deze avond zijn de laatste punten te verdienen voor
jouw team.

Tot dan!

Mochten er tijdens het maken van de quiz dringende vragen zijn.
Neem dan contact op met de organisatie:

06-23057882

06-22179437

DOEN!

KPJ Nederwetten

